


	<h2>MESURE</h2> <h3>Je m'exerce : le périmètre (3)</h3> <p>Objectif : Calculer le périmètre d'un carré en utilisant la formule.</p>	
--	---	--

#### Exercice 1

Calcule, en utilisant la formule, le périmètre de ces carrés.

#### Exercice 2

<p>Le périmètre d'un carré est de 64 cm. Quelle est la mesure d'un de ses côtés ?</p>	<p>Le périmètre d'un carré est de 80 cm. Quelle est la mesure d'un de ses côtés ?</p>
<p>Calculs :</p>	<p>Calculs :</p>
<p>Réponse :</p>	<p>Réponse :</p>



#### Exercice 3

Complète le tableau

Mesure d'un côté	Périmètre du carré
4 cm	....
....	20 cm
16 cm	....
2 cm 5 mm	....

#### Exercice 4

Trace un carré dont le périmètre est de 20 cm. Existe-t-il plusieurs solutions ?