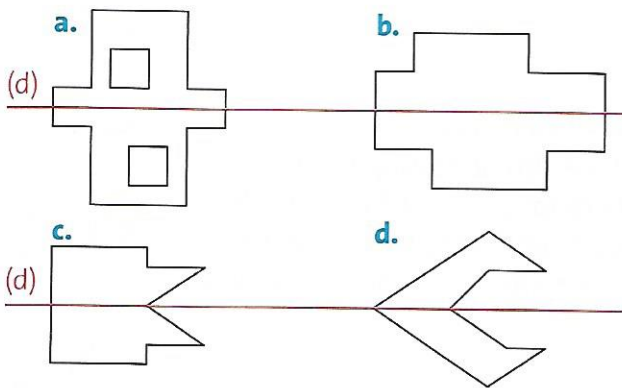
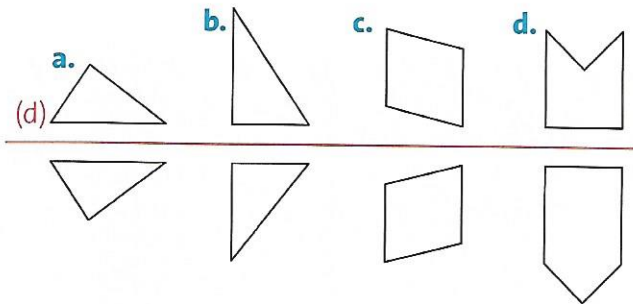


## Identifier les axes de symétrie

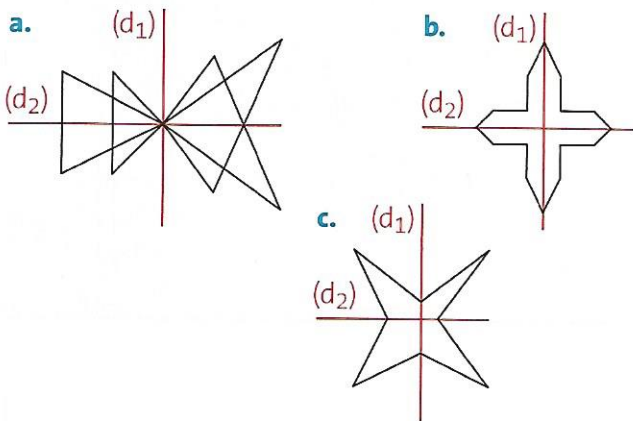
**3** \* Indique quelles figures sont symétriques par rapport à la droite (d).



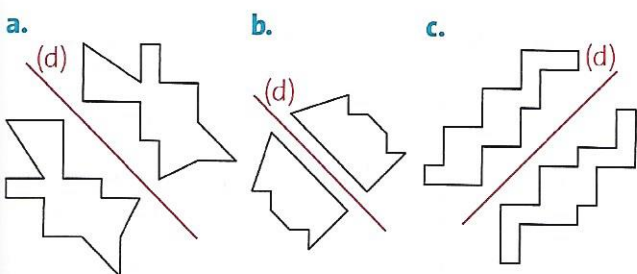
**4** \* Indique pour quelles figures l'axe (d) est un axe de symétrie.



**5** \* Indique pour chaque figure si les axes tracés sont des axes de symétrie de la figure.



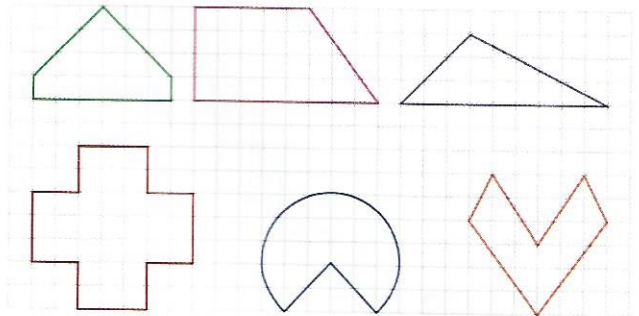
**6** \* Indique quelles figures sont symétriques par rapport à la droite (d).




## Tracer des axes de symétrie

**7** \* Reproduis les figures suivantes sur ton cahier en respectant le quadrillage.

Trace ensuite les axes de symétrie en rouge si ils existent.



**8** \* Reproduis les figures et trace les axes de symétrie.



## À toi de jouer

Trouve les 6 erreurs qui ont été malencontreusement commises lors du tracé du symétrique par rapport à l'axe (d).

