


Prénom : _____

Date: _____


Mesure : le périmètre

1 Calcul le périmètre des carrés et rectangles. *tu peux mesurer en mm -*




Calcul :

Le périmètre est de _____




Calcul :

Le périmètre est de _____



Calcul :

Le périmètre est de _____



Calcul :

Le périmètre est de _____

Problème

La piscine de la ville a une longueur de 10 m de longueur et 4m 50 cm de longueur.
Quel est le périmètre de cette piscine ?

Calcul(s) :

Phrase réponse :

| | | | | | | | | | |
|--|--|--|--|--|--|--|--|--|--|
| | | | | | | | | | |
| | | | | | | | | | |
| | | | | | | | | | |
| | | | | | | | | | |
| | | | | | | | | | |
| | | | | | | | | | |
| | | | | | | | | | |
| | | | | | | | | | |
| | | | | | | | | | |
| | | | | | | | | | |

CP - 2015 - 2016