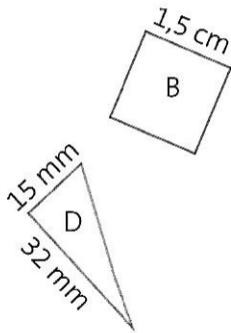
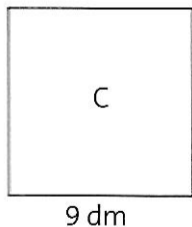
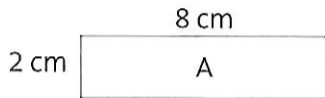


J'applique

- 1** * Calcule l'aire de chaque figure.



- 2** * Quelle est la longueur d'un rectangle ayant une aire de 36 m^2 et une largeur de 4 m ?

- 3** * Quelle est la mesure d'un côté d'un carré ayant une aire de 36 cm^2 ?

- 4** * Trace deux rectangles différents ayant la même aire de 20 cm^2 .

- 5** * Trace un carré et un rectangle ayant la même aire de $2\,500 \text{ mm}^2$.