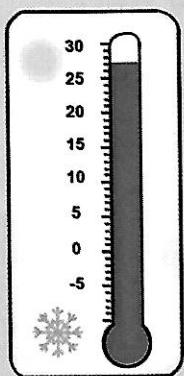


1 Recopie les températures dans le tableau et calcule l'écart.



Températures en degrés, sous abri (9 h ; 14 h)

- Ajaccio (17 ; 28)
- Bordeaux (13 ; 24)
- Lille (12 ; 20)
- Lyon (11 ; 23)
- Paris (10 ; 22)
- Toulouse (13 ; 26)

	9 h	14 h	écart
Ajaccio	17	28	11
Bordeaux	13	24	11
Lille	12	20	8
Lyon	11	23	12
Paris	10	22	12
Toulouse	13	26	13

2 Ce diagramme indique les ventes mensuelles de VTT d'une usine pendant 6 mois.

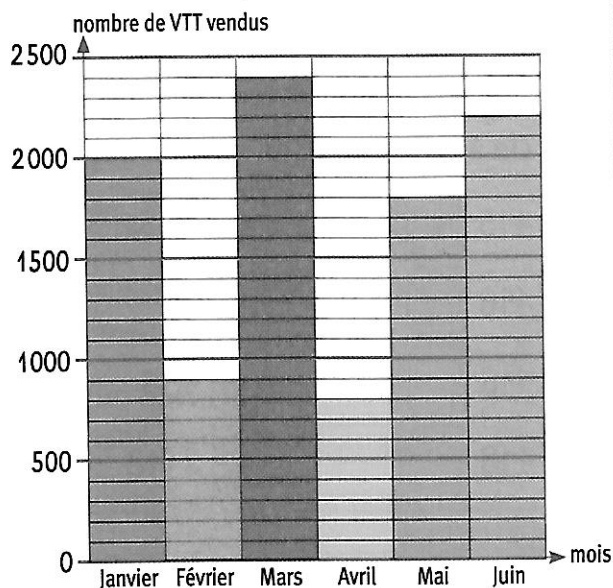


• Complète le tableau des ventes.

janvier	février	mars	avril	mai	juin
2000	1900	2400	800	1800	2200

• Calcule la différence des ventes.

- entre janvier et mars : 400
- entre avril et mai : 1000
- entre mai et juin : 400



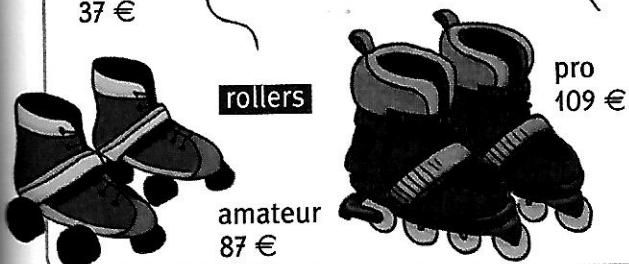
3 • Ce magasin présente des articles à différents prix. Complète le tableau.



cerfs-volants



rollers



	différence entre les prix
des cerfs-volants	$58 - 37 = 21$
des rollers	$109 - 87 = 22$

• Mikaël achète au prix le plus bas un cerf-volant et des rollers. Combien va-t-il payer ?

$37 + 87 = 124$
Mikaël va payer 124 €.